

かだい たしざんの ひるさ

① $\begin{array}{|c|c|c|} \hline \text{ばんじゆのこ} & \text{たすじゆに} & \\ \hline 35 & + & 12 \\ \hline \end{array}$

すうじ
むす

$\begin{array}{|c|c|} \hline 3 & 5 \\ \hline \end{array}$

かだい たしざんの ひるさん

① $\begin{array}{|c|c|c|} \hline \text{ばんじゆのこ} & \text{たすじゆに} & \\ \hline 35 & + & 12 \\ \hline \end{array}$

すうじ
むすか

$\begin{array}{|c|c|} \hline 3 & 5 \\ \hline \end{array}$

$\begin{array}{|c|} \hline + \\ \hline \end{array}$

かだい たしざんの ひるさん を

① $\begin{array}{|c|c|c|} \hline \text{ばんじゆのこ} & \text{たすじゆに} & \\ \hline 35 & + & 12 \\ \hline \end{array}$

すうじが
むすかしい

$\begin{array}{|c|c|} \hline 3 & 5 \\ \hline \end{array}$

$\begin{array}{|c|c|} \hline + & 12 \\ \hline \end{array}$

かだい たしざんの ひるさん


① $\begin{array}{|c|c|c|} \hline \text{ばんじゆのこ} & \text{たすじゆに} & \\ \hline 35 & + & 12 \\ \hline \end{array}$

すうじ
むすか

$\begin{array}{|c|c|} \hline 3 & 5 \\ \hline \end{array}$

$\begin{array}{|c|c|} \hline + & 12 \\ \hline \end{array}$

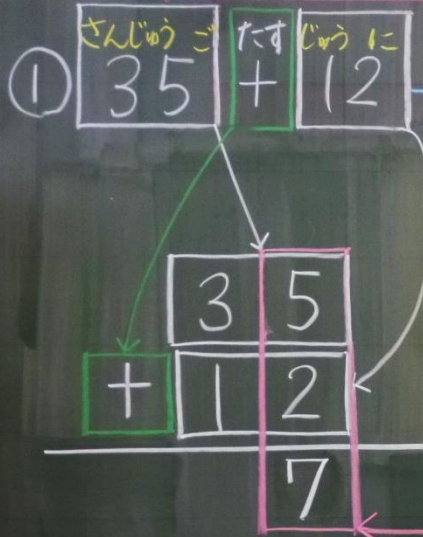
かだい たしざんのひっさんをしよう(1)



すうじがたくさん。
むずかしい。

いちのくらのけいさん
 $5 + 2 =$

かだい たしざんのひっさんをしよう(1)



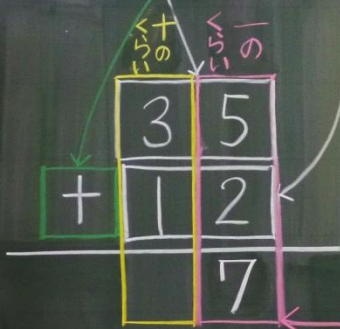
すうじがたくさん。
むずかしい。

いちのくらのけいさん
 $5 + 2 = 7$

oooooo oo

かだい たしざんのひっさんをしよう(1)

① $\overset{\text{さんじゅうご}}{35} + \overset{\text{たすじゅうに}}{12}$



すうじがたくさん。
むずかしい。

< いちのくらのけいさん >

$5 + 2 = 7$
ooooo oo


< じゅうのくらのけいさん >

$3 + 1 =$

かだい たしざんのひっさんをしよう(1)

① $\overset{\text{さんじゅうご}}{35} + \overset{\text{たすじゅうに}}{12}$

すうじがたくさん。
むずかしい。




< いちのくらのけいさん >

$5 + 2 = 7$
oooooo oo

< じゅうのくらのけいさん >

$3 + 1 = 4$
oo o



かだい たしざんのひざんをしよう(1)

① $\begin{array}{|c|c|} \hline 3 & 5 \\ \hline + & 12 \\ \hline \end{array}$

すうじがたふさん。
むすかしい。

② $\begin{array}{|c|c|} \hline 3 & 2 \\ \hline + & 4 \\ \hline \end{array}$

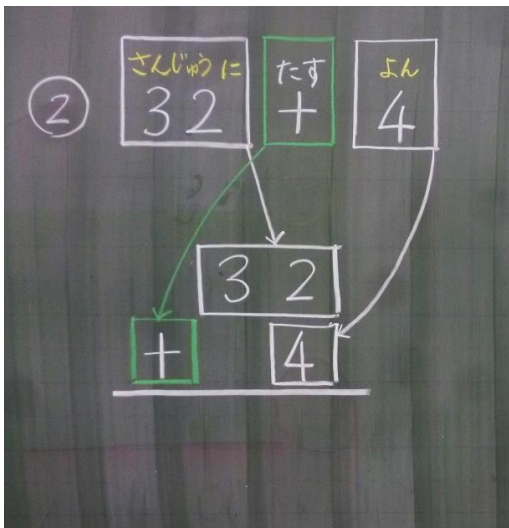
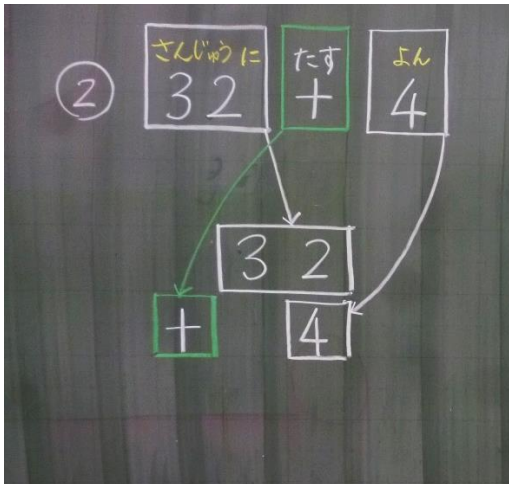
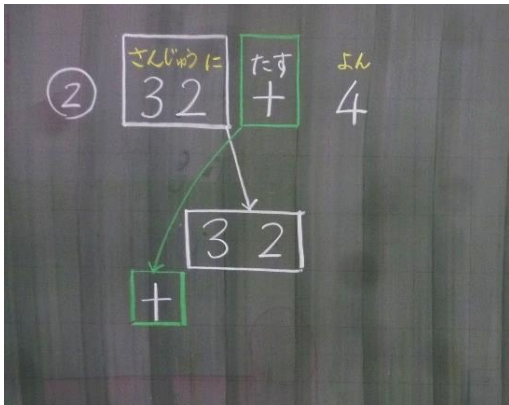
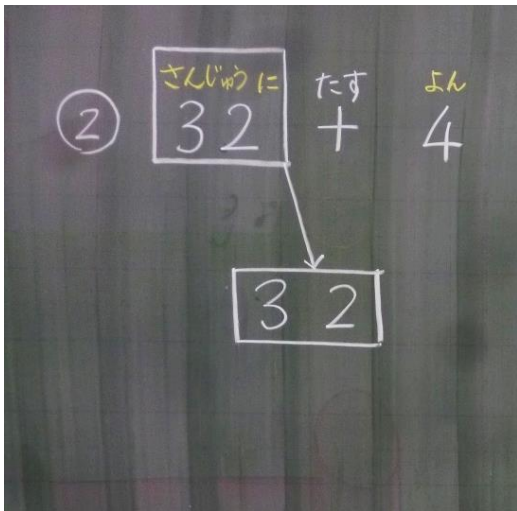
$\begin{array}{|c|c|} \hline 3 & 5 \\ \hline + & 12 \\ \hline \hline \end{array}$
こたえ $\begin{array}{|c|c|} \hline 4 & 7 \\ \hline \end{array}$

<いのくらのいのけいさん>

$5 + 2 = 7$

<じゆうのくらのいのけいさん>

$3 + 1 = 4$



②

さんじゅうに 32	たす +	よん 4
--------------	---------	---------

3	2
+	4

$2 + 4 =$

一の位のけいさん
 $2 + 4 =$

②

さんじゅうに 32	たす +	よん 4
--------------	---------	---------

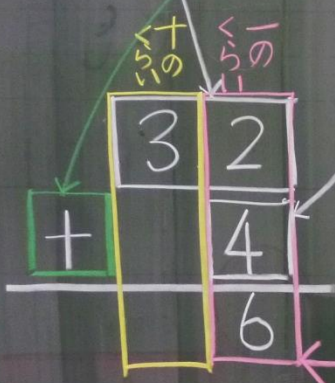
3	2
+	4
	6

$2 + 4 = 6$

一の位のけいさん
 $2 + 4 = 6$

②

さんじゅうに	たす	よん
32	+	4



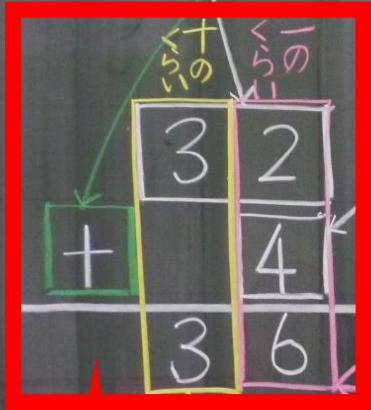
< ^{いち}一のくらのい の けいさん >

$$\underset{\text{〇〇}}{2} + \underset{\text{〇〇〇〇}}{4} = \boxed{6}$$

< ^{じゅう}十のくらのい の けいさん >

$$3 + 0 =$$

② さんじゅうに
32 たす
+ よん
4




いち
一の けいさん

$$\underset{\text{〇〇}}{2} + \underset{\text{〇〇〇〇}}{4} = \boxed{6}$$

じゅう
十の けいさん

$$\underset{\text{〇〇〇}}{3} + 0 = \boxed{3}$$



かだい たしざんのひっさんをしよう(1)

① $35 + 12$

すうじがたふさん、むずかしい。

「一のくらのけいさん」
 $5 + 2 = 7$

「十のくらのけいさん」
 $3 + 1 = 4$

こたえ 47

まとめ

② $32 + 4$

おほ 大きなかずのたしざんは、
 「一のくらのけいさん」~~+~~「十のくらのけいさん」
 にわけて、ひっさんをする。

「一のくらのけいさん」
 $2 + 4 = 6$

「十のくらのけいさん」
 $3 + 0 = 3$

「チャレンジ もんだい けいさんスキル」
 $5 \quad 6$

② $32 + 4$

おほ 大きなかずのたしざんは、
 「一のくらのけいさん」~~+~~「十のくらのけいさん」
 にわけて、ひっさんをする。

「一のくらのけいさん」
 $2 + 4 = 6$

「十のくらのけいさん」
 $3 + 0 = 3$

「チャレンジ もんだい けいさんスキル」
 $5 \quad 6$