

時こくと時間のもとめ方を考えよう。

③ 公園を出て30分歩いて、学校に11時10分に着きました。公園を出た時こくは何時何分ですか。

何時何分かな?
10時40分

30分前

11時10分

時こくと時間のもとめ方を考えよう。

3 公園を出て30分歩いて、学校に11時10分に着きました。公園を出た時こくは何時何分ですか。

もとめ方



11時



20分間 10分間

11時までは 10分間
11時から 20分前

の時こく

ちょうどの時こくをもと
にすると考えやすい

30ページ
4 5




何時何分かな?

10時40分

11時10分

時こくと時間のもともめ方を考えよう。

3 公園を出て30分歩いて、学校に11時10分に着きました。公園を出た時こくは何時何分ですか。



もともめ方



11時



20分間 10分間

11時までは 10分間
11時から 20分前 の時こく

ちよどの時こくをもと
にすると考えやすい

30ページ
4 5

4 商店がいにいた時間は40分、公園にいた時間は30分です。あわせて何時間何分ですか。

時こくと時間のもとのめ方を考えよう。

3 公園を出て30分歩いて、学校に11時10分に着きました。公園を出た時こくは何時何分ですか。

何時何分かな?
10時40分

30分前

11時10分

もとのめ方

11時

20分間 10分間

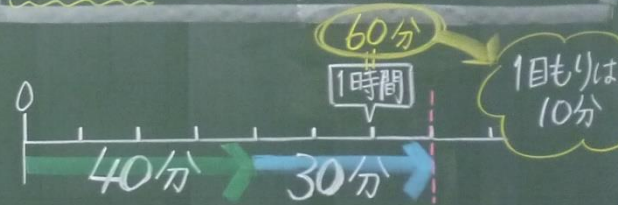
11時までは 10分間
11時から 20分前

の時こく

ちょうどの時こくをもとにすると考えやすい

30ページ
4 5

4 商店がいにいた時間は40分、公園にいた時間は30分です。あわせて何時間何分ですか。



時こくと時間のもとめ方を考えよう。

3 公園を出て30分歩いて、学校に11時10分に着きました。公園を出た時こくは何時何分ですか。



30分前

11時10分

何時何分かな?
10時40分

もとめ方



11時



20分間 10分間

11時までは 10分間
11時から 20分前

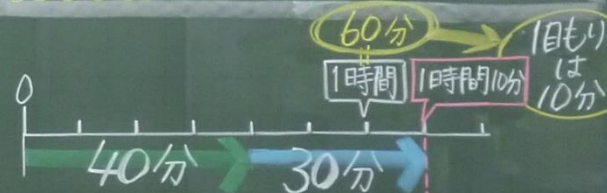
の時こく

ちょうどの時こくをもとにすると考えやすい

3ページ
① ④

30ページ
④ ⑤

4 商店がいにいた時間は40分、公園にいた時間は30分です。あわせて何時間何分ですか。



$40 + 30 = 70$

70分!?

60分=1時間だから...

時間も計算で
もとめられる

1時間10分と同じ!