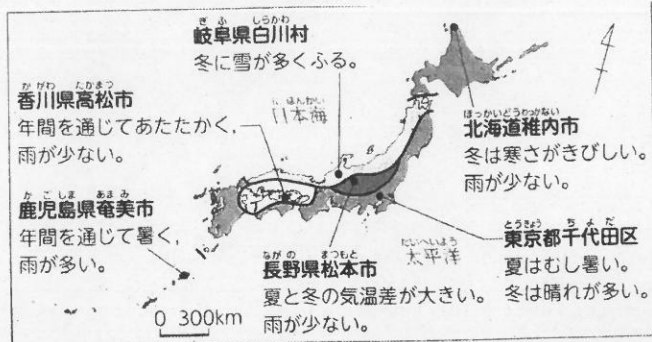


(1) 教科書 22Pを開き、学習課題と書く。

(2) 67の気候の特徴をワークシートに書く。

(3) 学習のめくを写す

なぜ



(4) 地図帳お34Pで岐阜県白川村と長野県松本市の位置を確認する。

(5) 白川村と松本市のグラフを比べ、似ているところと違うところを表に書く。

気温と降水量のグラフを読み取る

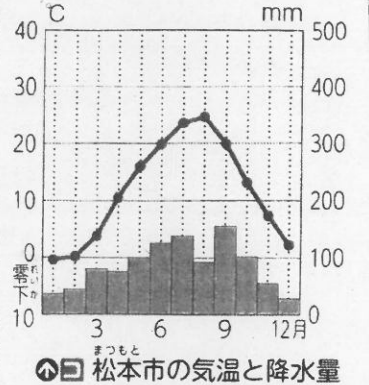
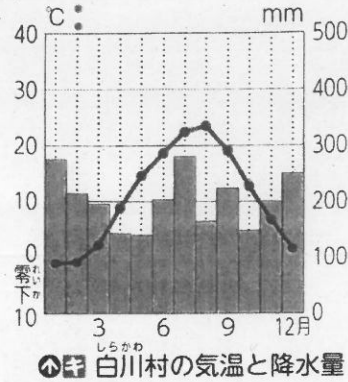
① グラフの
・ 気温

②

(6) 問りの答えと考えを書く

<ヒント>
教科書 23P
地図帳 33, 34P
の③④⑤の②

(7) 「分かったこと」を書く。



似ているところ

違うところ

Q. 約()kmしか離れていないのに冬の降水量が大きく違う理由は？

今日のふりかえり