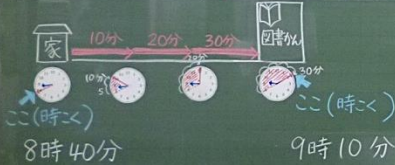


かだい 時刻と時間の求め方を考えよう。

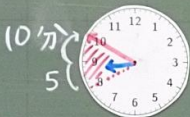
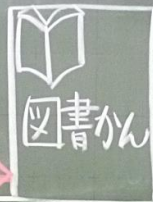
家を8時40分に出て、30分歩くと図書館に着きました。着いた時刻は何時何分ですか。

かだい 時刻と時間の求め方を考えよう。

家を8時40分に出て、30分歩くと図書館に着きました。着いた時刻は何時何分ですか。



10分 20分 30分



ここ(時刻)

ここ(時刻)

8時40分

9時10分

かだい 時刻と時間の求め方を考えよう。

家を8時40分に出て、30分歩くと図書館に着きました。着いた時刻は何時何分ですか。



時計の針をうごかしながら考えると時刻をもとめることができるよ。

かだい 時<と時間 のもめ方を考えよう。

家を 8時40分 に出て、30分 歩くと図書館に 着きました。着いた時<は 何時何分 ですか。

図書館を 9時50分 に出て、おばあさんの家 に 10時10分 に 着きました。図書館 から おばあさんの 家まで、かかった 時間 は 何分 ですか。

こ(時<) 8時40分 こたえ 9時10分

時計の(れ)をうごかしながら考えると時<をもとめることができるよ。

かだい 時<と時間 のもめ方を考えよう。

家を 8時40分 に出て、30分 歩くと図書館に 着きました。着いた時<は 何時何分 ですか。

図書館を 9時50分 に出て、おばあさんの家 に 10時10分 に 着きました。図書館 から おばあさんの 家まで、かかった 時間 は 何分 ですか。

こ(時<) 9時50分 こたえ 20分 こ(時<) 10時10分

時計の(れ)をうごかしながら考えると時<をもとめることができるよ。

時< と 時< の 間 が どれだけか を 数え る と 時間 を もとめる こと が できる よ。

こ(時<) 9時50分 こたえ 20分 こ(時<) 10時10分

かたい **時刻** と **時間** の **求め方** を **考えよう**。

家を 8時40分 に **出て**、**30分** 歩くと **図書館** に **着きました**。着いた **時刻** は **何時何分** ですか。

図書館 **時間** おばあさんの家

ここ(時刻) 8時40分 ここ(時刻) 9時10分

ここ(時刻) 9時50分 **20分** ここ(時刻) 10時10分

時計の(はり)をうごかしながら **考え**ると **時刻** を **もとめる** ことができますよ。

時計の(はり)をしらべると、**時刻** や **時間** を **もとめる** ことができますよ。

まとめ

時計の(はり)をしらべると、**時刻** や **時間** を **もとめる** ことができます。

チャレンジもんだい
計スキ **9** ①②③

まとめ

時計の(はり)をしらべると、**時刻** や **時間** を **もとめる** ことができます。

チャレンジもんだい
計スキ **9** ①②③