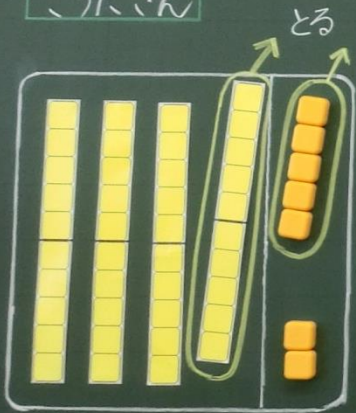


5/15  $47 - 15$  のけいさんのし方をかんがえよう。

こうたさん



$$30 + 2 = 32$$

こうたさんのかんがえ

10のまとまりどうし、  
ばらどうしでけいさん  
さいごに合わせている。

みさきさん

$$47 - 15$$



$$\square - \square = \square$$

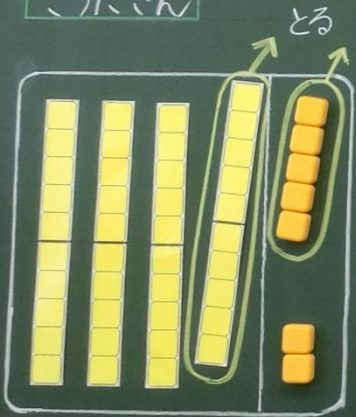
$$\square - \square = \square$$

$$\square + \square = \square$$

5/5  $47 - 15$  のけいさんのし方をかんがえよう。

2人のかんがえの同じところは？

こうたさん



$$30 + 2 = 32$$

こうたさんのかんがえ

10のまとまりどうし、  
ばらどうしでけいさん  
さいごに合せている。

みさきさん

$$47 - 15$$

40	7	10	5
----	---	----	---

みさきさんのかんがえ

十のくらいと、一のくらいに  
分けて、それぞれひいてから  
合せている。

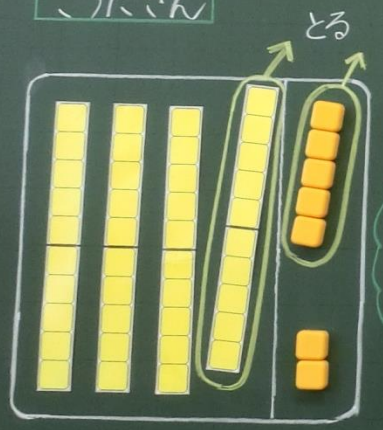
$$40 - 10 = 30$$

$$7 - 5 = 2$$

$$30 + 2 = 32$$

5/15  $47-15$  のけいさんのし方をかんがえよう。

こうたさん



$30+2=32$

こうたさんのかんがえ  
10のまとまりどうし、  
ばらどうしでけいさん  
さいごに合せている。

みさきさん



$47-15$   
 $40-10=30$   
 $7-5=2$   
 $30+2=32$

みさきさんのかんがえ  
十のくらいと、一のくらいに  
分けて、それぞれひいてから  
合せている。

2人のかんがえの同じところは？

- ・10のまとまりどうし、ばらどうしで、ひきざんをしている。
- ・十のくらいと、一のくらいをべつべつにけいさんして、合せている。

まとめ

2けたのかずのみさきさんは、  
10のまとまりどうし、ばらどうしに  
分けてけいさんする。