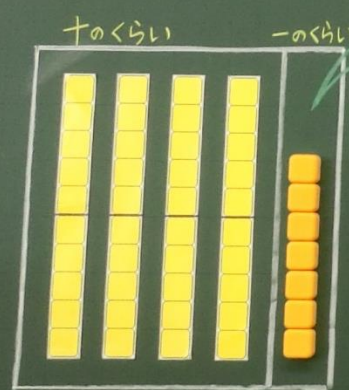


5/20  $47-18$  のもとめ方をかんがえよう。



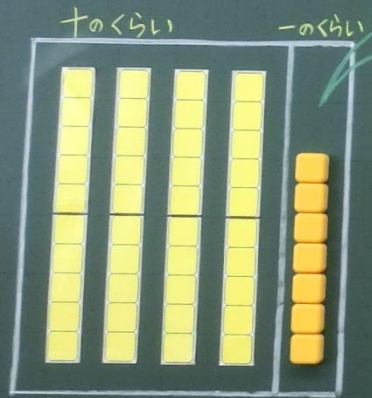
18をとるには、どうしたらよいのだろう？

みさきさん



$$\begin{array}{r} 30 \\ - 20 \\ \hline \end{array} \quad \begin{array}{r} 17 \\ - 8 \\ \hline \end{array}$$

5/20  $47-18$  のもとめ方をかんがえよう。



18をとるには、どうしたらよいのだろう？

みさきさん

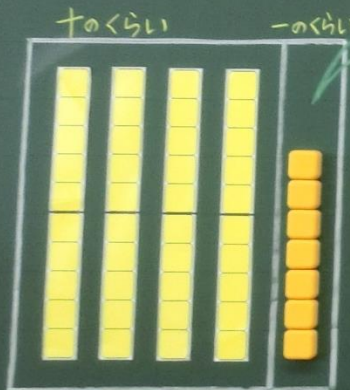


47を30と17に分ける。

$$\begin{array}{r} 30 \\ - 20 \\ \hline 20 \end{array} \quad \begin{array}{r} 17 \\ - 8 \\ \hline 9 \end{array}$$

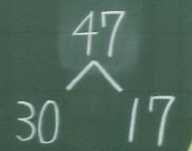
29

5/20  $47-18$  のもとめ方をかんがえよう。



18をとるには、どうしたらよいのだろう？

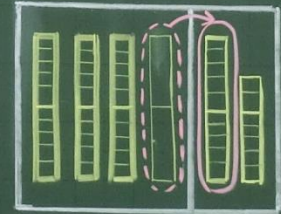
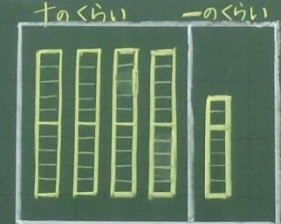
みさきさん



47を30と17に分ける。

$$\begin{array}{r} 30 & 17 \\ -20 & -8 \\ \hline 20 & 9 \\ \hline & 29 \end{array}$$

<ひささんのし方をかんがえよう>



一のくらい

$$\begin{array}{r} 47 \\ -18 \\ \hline \end{array}$$

7から8はひけない。

十のくらいから1くり下げる。

3の10  $\times 10$

$$\begin{array}{r} 30 \\ \times 10 \\ \hline 300 \end{array}$$

17-8=9

$$\begin{array}{r} 30 \\ -18 \\ \hline 29 \end{array}$$

一のくらい  
1くり下げたので3  
3-1=2

まとめ

一のくらいのけいせん  
ができないときは、十の  
くらいから1くり下げる。

30ページ