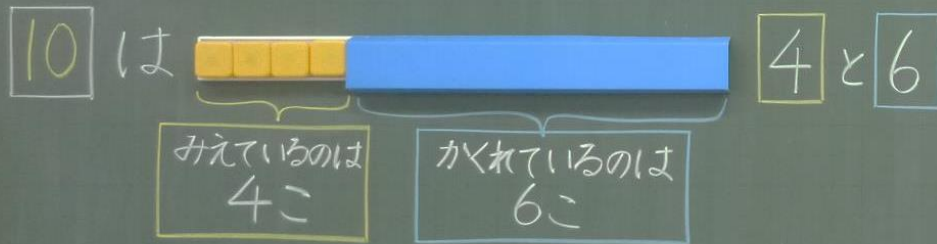


5/21 10は いくつといくつか かんがえよう。

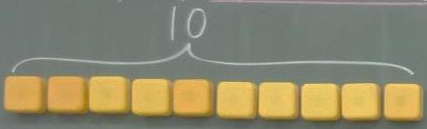


かくれているぶろくの かずを かんがえよう。

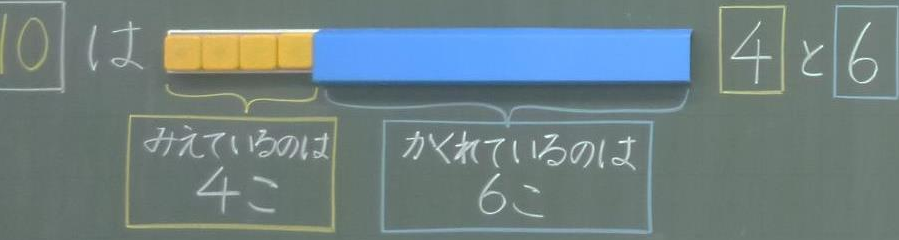


5/21 10は いくつといくつか かんがえよう。

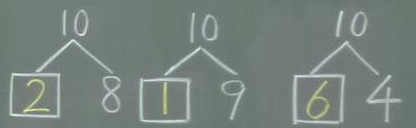
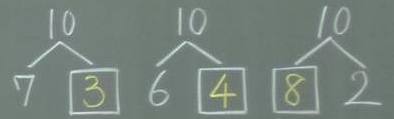

10



かくれているぶろくの かずを かんがえよう。



10は いくつといくつ



ふりかえり

10は いくつといくつか おぼえよう。